

Zadatak 041 (Trojac, gimnazija)

Odredite tjeme kvadratne funkcije $f(x) = 2 \cdot (x-5)^2 + 3$.

Rješenje 041

Ponovimo!

Graf kvadratne funkcije $f(x) = a \cdot (x-x_0)^2 + y_0$ parabola je s tjemenom u točki $T(x_0, y_0)$ dobivena translacijom parabole $y = a \cdot x^2$. U točki x_0 funkcija f poprima najmanju vrijednost y_0 ako je $a > 0$, a najveću vrijednost y_0 ako je $a < 0$.

$$f(x) = a \cdot (x - x_0)^2 + y_0$$

APSCISA TJEMENA ORDINATA TJEMENA

$T(x_0, y_0)$

Primjeri:

- $f(x) = a \cdot (x-3)^2 + 5 \Rightarrow f(x) = a \cdot (x-3)^2 + 5 \Rightarrow T(3, 5)$
- $f(x) = a \cdot (x-3)^2 - 5 \Rightarrow f(x) = a \cdot (x-3)^2 + (-5) \Rightarrow T(3, -5)$
- $f(x) = a \cdot (x+3)^2 + 5 \Rightarrow f(x) = a \cdot (x-(-3))^2 + 5 \Rightarrow T(-3, 5)$
- $f(x) = a \cdot (x+3)^2 - 5 \Rightarrow f(x) = a \cdot (x-(-3))^2 + (-5) \Rightarrow T(-3, -5)$.

Tjeme zadane funkcije $f(x) = 2 \cdot (x-5)^2 + 3$, dakle, je: $T(5, 3)$.

Vježba 041

Odredite tjeme kvadratne funkcije $f(x) = 2 \cdot (x-4)^2 + 7$.

Rezultat: $T(4, 7)$.

Zadatak 042 (2A, TUPŠ)

Dan je skup polinoma drugog stupnja: $f(x) = x^2 - (m-1) \cdot x - m$, $m \in R$. Koji od polinoma ovog skupa prima najmanju vrijednost za $x = -2$? Koliko ta vrijednost iznosi?

Rješenje 042

Ponovimo!

Kvadratna funkcija

$$f(x) = a \cdot x^2 + b \cdot x + c$$

ima ekstrem u točki s apscisom: $x_0 = -\frac{b}{2 \cdot a}$.

Vrijednost ekstrema iznosi: $y_0 = \frac{4 \cdot a \cdot c - b^2}{4 \cdot a}$.

Ekstrem je minimum ako je $a > 0$, maksimum ako je $a < 0$.

Odredimo koeficijente zadanog polinoma:

$$\left. \begin{array}{l} f(x) = a \cdot x^2 + b \cdot x + c \\ f(x) = x^2 - (m-1) \cdot x - m \end{array} \right\} \Rightarrow \left. \begin{array}{l} a = 1 \\ b = -(m-1) \\ c = -m \end{array} \right\}$$

Tražimo m za koji polinom $f(x) = x^2 - (m-1) \cdot x - m$ poprima najmanju vrijednost u $x_0 = -2$.

$$\left. \begin{array}{l} a=1, b=-(m-1), c=-m \\ x_0 = -\frac{b}{2 \cdot a}, x_0 = -2 \end{array} \right\} \Rightarrow -\frac{b}{2 \cdot a} = -2 \wedge (-2 \cdot a) \Rightarrow b = 4 \cdot a \Rightarrow -(m-1) = 4 \cdot 1 \Rightarrow$$

$$\Rightarrow -m+1=4 \Rightarrow -m=4-1 \Rightarrow -m=3 \wedge (-1) \Rightarrow m=-3.$$

Za taj m imamo polinom:

$$\left. \begin{array}{l} m=-3 \\ f(x) = x^2 - (m-1) \cdot x - m \end{array} \right\} \Rightarrow f(x) = x^2 - (-3-1) \cdot x - (-3) \Rightarrow f(x) = x^2 + 4 \cdot x + 3.$$

Najmanja vrijednost (minimum) tog polinoma je:

1. inačica

$$\left. \begin{array}{l} x=-2 \\ f(x) = x^2 + 4 \cdot x + 3 \end{array} \right\} \Rightarrow f(-2) = (-2)^2 + 4 \cdot (-2) + 3 \Rightarrow f(-2) = 4 - 8 + 3 \Rightarrow f(-2) = -1.$$

2. inačica

$$\left. \begin{array}{l} f(x) = x^2 + 4 \cdot x + 3 \\ a=1, b=4, c=3 \end{array} \right\} \Rightarrow \left. \begin{array}{l} a=1, b=4, c=3 \\ y_0 = \frac{4 \cdot a \cdot c - b^2}{4 \cdot a} \end{array} \right\} \Rightarrow y_0 = \frac{4 \cdot 1 \cdot 3 - 4^2}{4 \cdot 1} \Rightarrow y_0 = \frac{12 - 16}{4} \Rightarrow$$

$$\Rightarrow y_0 = \frac{-4}{4} \Rightarrow y_0 = -1.$$

Vježba 042

Dan je skup polinoma drugog stupnja: $f(x) = x^2 + (1-m) \cdot x - m, m \in \mathbb{R}$. Koji od polinoma ovog skupa prima najmanju vrijednost za $x = -2$? Koliko ta vrijednost iznosi?

Rezultat: $f(x) = x^2 + 4 \cdot x + 3, m = -3$.

Zadatak 043 (2A, TUPŠ)

Dan je skup polinoma drugog stupnja: $f(x) = x^2 - (m-1) \cdot x - m, m \in \mathbb{R}$. Dokaži da svi polinomi imaju realne korijene.

Rješenje 043

Ponovimo!

$$(x-y)^2 = x^2 - 2 \cdot x \cdot y + y^2, (x+y)^2 = x^2 + 2 \cdot x \cdot y + y^2, x^2 \geq 0, x \in \mathbb{R}.$$

Diskriminanta kvadratne jednadžbe $a \cdot x^2 + b \cdot x + c = 0$ je broj $D = b^2 - 4 \cdot a \cdot c$.

- Ako je $D > 0$, jednadžba ima dva realna rješenja (korijena).
- Ako je $D = 0$, jednadžba ima jedno dvostruko realno rješenje (korijen).
- Ako je $D < 0$, jednadžba ima kompleksno-konjugirana rješenja (korijene).

Da bi svi polinomi imali realne korijene mora vrijediti:

$$D \geq 0 \Rightarrow b^2 - 4 \cdot a \cdot c \geq 0.$$

$$\left. \begin{array}{l} f(x) = x^2 - (m-1) \cdot x - m \\ a=1, b=-(m-1), c=-m \end{array} \right\} \Rightarrow \left. \begin{array}{l} a=1, b=-(m-1), c=-m \\ b^2 - 4 \cdot a \cdot c \geq 0 \end{array} \right\} \Rightarrow (-(m-1))^2 - 4 \cdot 1 \cdot (-m) \geq 0 \Rightarrow$$

$$\Rightarrow (m-1)^2 + 4 \cdot m \geq 0 \Rightarrow m^2 - 2 \cdot m + 1 + 4 \cdot m \geq 0 \Rightarrow m^2 + 2 \cdot m + 1 \geq 0 \Rightarrow (m+1)^2 \geq 0.$$

Tvrdnja je točna.

Vježba 043

Dan je skup polinoma drugog stupnja: $f(x) = x^2 + (1-m) \cdot x - m$, $m \in R$. Dokaži da svi polinomi imaju realne korijene

Rezultat: Dokaz analogan.

Zadatak 044 (2A, TUPŠ)

Dan je skup polinoma drugog stupnja: $f(x) = x^2 - (m-1) \cdot x - m$, $m \in R$. Za koje se m dobije polinom s korijenima suprotnih predznaka?

Rješenje 044

Ponovimo!

Da bi korijeni polinoma $f(x) = a \cdot x^2 + b \cdot x + c$ bili suprotnog predznaka nužno je i dovoljno da bude

$$a \cdot f(0) < 0 \Rightarrow a \cdot c < 0.$$

Tako bi u ovom zadatku uvjet za m bio:

$$\left. \begin{array}{l} f(x) = x^2 - (m-1) \cdot x - m \\ a = 1, c = -m \end{array} \right\} \Rightarrow \left. \begin{array}{l} a = 1, c = -m \\ a \cdot c < 0 \end{array} \right\} \Rightarrow 1 \cdot (-m) < 0 \Rightarrow -m < 0 \quad / \cdot (-1) \Rightarrow m > 0.$$

Vježba 044

Dan je skup polinoma drugog stupnja: $f(x) = x^2 + (1-m) \cdot x - m$, $m \in R$. Za koje se m dobije polinom s korijenima suprotnih predznaka?

Rezultat: $m > 0$.

Zadatak 045 (2A, TUPŠ)

Dan je skup polinoma drugog stupnja: $f(x) = x^2 - (m-1) \cdot x - m$, $m \in R$. Odredi skup točaka ravnine što ga čine tjemena parabola koje su grafovi svih polinoma iz danog skupa.

Rješenje 045

Ponovimo!

Graf kvadratne funkcije $f(x) = a \cdot x^2 + b \cdot x + c$ je parabola koju dobivamo translacijom parabole

$y = a \cdot x^2$, tako da joj tjeme bude u točki $T(x_0, y_0)$, pri čemu je

$$x_0 = -\frac{b}{2 \cdot a}, \quad y_0 = \frac{4 \cdot a \cdot c - b^2}{4 \cdot a}.$$

Pomoću koordinata tjemena postavimo sustav jednažbi:

$$\left. \begin{array}{l} f(x) = x^2 - (m-1) \cdot x - m \\ a = 1, b = -(m-1), c = -m \end{array} \right\} \Rightarrow \left. \begin{array}{l} x_0 = -\frac{b}{2 \cdot a} \\ y_0 = \frac{4 \cdot a \cdot c - b^2}{4 \cdot a} \end{array} \right\} \Rightarrow \left. \begin{array}{l} x_0 = -\frac{-(m-1)}{2 \cdot 1} \\ y_0 = \frac{4 \cdot 1 \cdot (-m) - (-(m-1))^2}{4 \cdot 1} \end{array} \right\} \Rightarrow$$
$$\Rightarrow \left. \begin{array}{l} x_0 = \frac{m-1}{2} \\ y_0 = \frac{-4 \cdot m - (m-1)^2}{4} \end{array} \right\} \Rightarrow \left. \begin{array}{l} x_0 = \frac{m-1}{2} \\ y_0 = \frac{-4 \cdot m - (m^2 - 2 \cdot m + 1)}{4} \end{array} \right\} \Rightarrow \left. \begin{array}{l} x_0 = \frac{m-1}{2} \\ y_0 = \frac{-4 \cdot m - m^2 + 2 \cdot m - 1}{4} \end{array} \right\} \Rightarrow$$

$$\Rightarrow \left. \begin{array}{l} x_0 = \frac{m-1}{2} \\ y_0 = \frac{-m^2 - 2 \cdot m - 1}{4} \end{array} \right\} \Rightarrow \left. \begin{array}{l} x_0 = \frac{m-1}{2} \\ y_0 = -\frac{m^2 + 2 \cdot m + 1}{4} \end{array} \right\} \Rightarrow \left. \begin{array}{l} x_0 = \frac{m-1}{2} \\ y_0 = -\frac{(m+1)^2}{4} \end{array} \right\} \Rightarrow \left[\begin{array}{l} \text{eliminiramo, isključimo} \\ \text{m iz dobivenog sustava} \end{array} \right] \Rightarrow$$

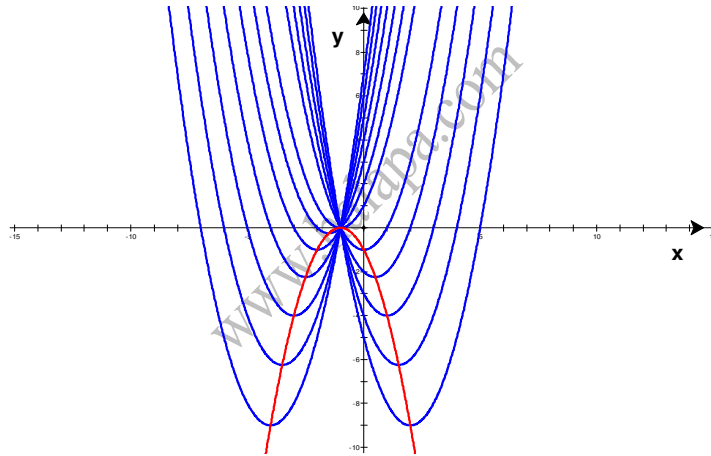
$$\Rightarrow \left. \begin{array}{l} x_0 = \frac{m-1}{2} \cdot 2 \\ y_0 = -\frac{(m+1)^2}{4} \end{array} \right\} \Rightarrow \left. \begin{array}{l} 2 \cdot x_0 = m-1 \\ y_0 = -\frac{(m+1)^2}{4} \end{array} \right\} \Rightarrow \left. \begin{array}{l} m = 2 \cdot x_0 + 1 \\ y_0 = -\frac{(m+1)^2}{4} \end{array} \right\} \Rightarrow y_0 = -\frac{(2 \cdot x_0 + 1 + 1)^2}{4} \Rightarrow$$

$$\Rightarrow y_0 = -\frac{(2 \cdot x_0 + 2)^2}{4} \Rightarrow y_0 = -\frac{(2 \cdot (x_0 + 1))^2}{4} \Rightarrow y_0 = -\frac{4 \cdot (x_0 + 1)^2}{4} \Rightarrow$$

$$\Rightarrow y_0 = -\frac{4 \cdot (x_0 + 1)^2}{4} \Rightarrow y_0 = -(x_0 + 1)^2.$$

Vidimo da je skup tjemena parabola koje su grafovi polinoma iz danog skupa također parabola

$$y = -(x+1)^2.$$



Vježba 045

Dan je skup polinoma drugog stupnja: $f(x) = x^2 + (1-m) \cdot x - m$, $m \in \mathbb{R}$. Odredi skup točaka ravnine što ga čine tjemena parabola koje su grafovi svih polinoma iz danog skupa.

Rezultat: $y = -(x+1)^2$.

Zadatak 046 (2A, TUPŠ)

Za koje vrijednosti realnog parametra m polinom II. stupnja: $f(x) = m \cdot x^2 - x - 1 - m$ ima korijene istog predznaka?

Rješenje 046

Ponovimo!

$$a \cdot b < 0 \Rightarrow \left. \begin{array}{l} a > 0 \\ b < 0 \end{array} \right\} \text{ ili } \left. \begin{array}{l} a < 0 \\ b > 0 \end{array} \right\}, \quad \frac{a}{b} < 0 \Rightarrow \left. \begin{array}{l} a > 0 \\ b < 0 \end{array} \right\} \text{ ili } \left. \begin{array}{l} a < 0 \\ b > 0 \end{array} \right\}.$$

$$a \cdot b > 0 \Rightarrow \left. \begin{array}{l} a > 0 \\ b > 0 \end{array} \right\} \text{ ili } \left. \begin{array}{l} a < 0 \\ b < 0 \end{array} \right\}, \quad \frac{a}{b} > 0 \Rightarrow \left. \begin{array}{l} a > 0 \\ b > 0 \end{array} \right\} \text{ ili } \left. \begin{array}{l} a < 0 \\ b < 0 \end{array} \right\}.$$

Rješenja x_1, x_2 kvadratne jednadžbe $a \cdot x^2 + b \cdot x + c = 0$ zadovoljavaju Viëteove formule:

$$x_1 + x_2 = -\frac{b}{a}, \quad x_1 \cdot x_2 = \frac{c}{a}.$$

1. inačica

Nađemo korijene polinoma tako da riješimo kvadratnu jednadžbu:

$$\left. \begin{array}{l} m \cdot x^2 - x - 1 - m = 0 \\ a = m, b = -1, c = -1 - m \end{array} \right\} \Rightarrow \left. \begin{array}{l} a = m, b = -1, c = -1 - m \\ x_{1,2} = \frac{-b \pm \sqrt{b^2 - 4 \cdot a \cdot c}}{2 \cdot a} \end{array} \right\} \Rightarrow x_{1,2} = \frac{1 \pm \sqrt{1 - 4 \cdot m \cdot (-1 - m)}}{2 \cdot m} \Rightarrow$$

$$\Rightarrow x_{1,2} = \frac{1 \pm \sqrt{1 + 4 \cdot m + 4 \cdot m^2}}{2 \cdot m} \Rightarrow x_{1,2} = \frac{1 \pm \sqrt{(1 + 2 \cdot m)^2}}{2 \cdot m} \Rightarrow x_{1,2} = \frac{1 \pm (1 + 2 \cdot m)}{2 \cdot m} \Rightarrow$$

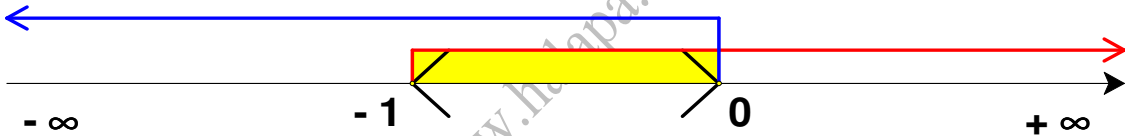
$$\Rightarrow \left. \begin{array}{l} x_1 = \frac{1 + (1 + 2 \cdot m)}{2 \cdot m} \\ x_2 = \frac{1 - (1 + 2 \cdot m)}{2 \cdot m} \end{array} \right\} \Rightarrow \left. \begin{array}{l} x_1 = \frac{1 + 1 + 2 \cdot m}{2 \cdot m} \\ x_2 = \frac{1 - 1 - 2 \cdot m}{2 \cdot m} \end{array} \right\} \Rightarrow \left. \begin{array}{l} x_1 = \frac{2 + 2 \cdot m}{2 \cdot m} \\ x_2 = \frac{-2 \cdot m}{2 \cdot m} \end{array} \right\} \Rightarrow \left. \begin{array}{l} x_1 = \frac{2 \cdot (1 + m)}{2 \cdot m} \\ x_2 = -1 \end{array} \right\} \Rightarrow \left. \begin{array}{l} x_1 = \frac{1 + m}{m} \\ x_2 = -1 \end{array} \right\}.$$

Drugo rješenje x_2 je negativno pa prvo rješenje x_1 , zbog uvjeta zadatka, mora biti također negativno:

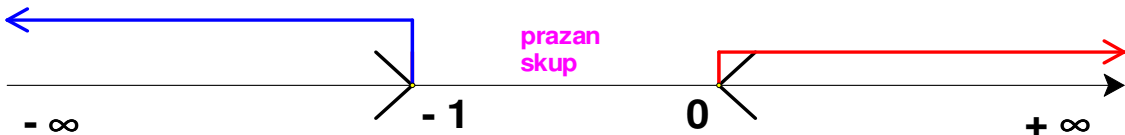
$$\frac{1 + m}{m} < 0.$$

Računamo vrijednosti parametra m :

$$\bullet \left. \begin{array}{l} \frac{1 + m}{m} < 0 \Rightarrow 1 + m > 0 \\ m < 0 \end{array} \right\} \Rightarrow \left. \begin{array}{l} m > -1 \\ m < 0 \end{array} \right\} \Rightarrow m \in \langle -1, 0 \rangle.$$



$$\bullet \left. \begin{array}{l} \frac{1 + m}{m} < 0 \Rightarrow 1 + m < 0 \\ m > 0 \end{array} \right\} \Rightarrow \left. \begin{array}{l} m < -1 \\ m > 0 \end{array} \right\} \Rightarrow \emptyset \text{ prazan skup.}$$



2. inačica

Uporabom druge Viëteove formule dobije se:

$$\left. \begin{array}{l} m \cdot x^2 - x - 1 - m = 0 \\ a = m, b = -1, c = -1 - m \end{array} \right\} \Rightarrow \left. \begin{array}{l} a = m, b = -1, c = -1 - m \\ x_1 \cdot x_2 = \frac{c}{a} \end{array} \right\} \Rightarrow x_1 \cdot x_2 = \frac{-1 - m}{m}.$$

Budući da korijeni imaju iste predznake, slijedi:

$$x_1 \cdot x_2 > 0 \Rightarrow \frac{-1 - m}{m} > 0 \quad / \cdot (-1) \Rightarrow \frac{1 + m}{m} < 0.$$

Računamo vrijednosti parametra m :

$$\bullet \left. \begin{array}{l} \frac{1 + m}{m} < 0 \Rightarrow 1 + m > 0 \\ m < 0 \end{array} \right\} \Rightarrow \left. \begin{array}{l} m > -1 \\ m < 0 \end{array} \right\} \Rightarrow m \in \langle -1, 0 \rangle.$$

$$\bullet \frac{1+m}{m} < 0 \Rightarrow \left. \begin{array}{l} 1+m < 0 \\ m > 0 \end{array} \right\} \Rightarrow \left. \begin{array}{l} m < -1 \\ m > 0 \end{array} \right\} \Rightarrow \emptyset \text{ prazan skup.}$$

Vježba 046

Za koje vrijednosti realnog parametra m polinom II. stupnja: $f(x) = m \cdot x^2 - x - (1+m)$ ima korijene istog predznaka?

Rezultat: $m \in \langle -1, 0 \rangle$.

Zadatak 047 (2A, 2C, TUPŠ)

Odredi $b \in R$ tako da tjeme parabole $y = -3 \cdot x^2 + b \cdot x - 16$ bude u točki $T(-2, -4)$.

Rješenje 047

Ponovimo!

Graf kvadratne funkcije $f(x) = a \cdot x^2 + b \cdot x + c$ je parabola $y = a \cdot x^2 + b \cdot x + c$. Tjeme T najniža je točka parabole i parabola je otvorena prema gore ako je $a > 0$. Tjeme T najviša je točka parabole i parabola je otvorena prema dolje ako je $a < 0$. Koordinate tjemena $T(x_0, y_0)$ su:

$$x_0 = -\frac{b}{2 \cdot a}, \quad y_0 = \frac{4 \cdot a \cdot c - b^2}{4 \cdot a}.$$

1. inačica

Iz formule za apscisu (prvu koordinatu) tjemena T :

$$x_0 = -\frac{b}{2 \cdot a}.$$

dobije se koeficijent b .

$$\left. \begin{array}{l} T(x_0, y_0) = T(-2, -4) \\ y = -3 \cdot x^2 + b \cdot x - 16 \\ a = -3, b = b, c = -16 \end{array} \right\} \Rightarrow \left[x_0 = -\frac{b}{2 \cdot a} \right] \Rightarrow -2 = -\frac{b}{2 \cdot (-3)} \Rightarrow -2 = \frac{b}{6} \quad / \cdot 6 \Rightarrow b = -12.$$

2. inačica

Budući da točka T pripada paraboli, uvrstit ćemo vrijednosti koordinata tjemena T u jednadžbu parabole:

$$\left. \begin{array}{l} T(x, y) = T(-2, -4) \\ y = -3 \cdot x^2 + b \cdot x - 16 \end{array} \right\} \Rightarrow -4 = -3 \cdot (-2)^2 + b \cdot (-2) - 16 \Rightarrow -4 = -3 \cdot 4 - 2 \cdot b - 16 \Rightarrow \\ \Rightarrow -4 = -12 - 2 \cdot b - 16 \Rightarrow 2 \cdot b = -12 - 16 + 4 \Rightarrow 2 \cdot b = -24 \quad / : 2 \Rightarrow b = -12.$$

Vježba 047

Odredi $b \in R$ tako da tjeme parabole $y = 2 \cdot x^2 + b \cdot x + 1$ bude u točki $T(1, -1)$.

Rezultat: -4 .

Zadatak 048 (2A, 2C, TUPŠ)

Odredi $a \in R$ tako da tjeme parabole $y = a \cdot x^2 - x + 4$ bude u točki $T\left(1, \frac{7}{2}\right)$.

Rješenje 048

Ponovimo!

Graf kvadratne funkcije $f(x) = a \cdot x^2 + b \cdot x + c$ je parabola $y = a \cdot x^2 + b \cdot x + c$. Tjeme T najniža je točka parabole i parabola je otvorena prema gore ako je $a > 0$. Tjeme T najviša je točka parabole i parabola je otvorena prema dolje ako je $a < 0$. Koordinate tjemena $T(x_0, y_0)$ su:

$$x_0 = -\frac{b}{2 \cdot a} \quad , \quad y_0 = \frac{4 \cdot a \cdot c - b^2}{4 \cdot a}$$

1. inačica

Iz formule za apscisu (prvu koordinatu) tjemena T:

$$x_0 = -\frac{b}{2 \cdot a}$$

dobije se koeficijent a.

$$\left. \begin{array}{l} T(x_0, y_0) = T\left(1, \frac{7}{2}\right) \\ y = a \cdot x^2 - x + 4 \\ a = a, \quad b = -1, \quad c = 4 \end{array} \right\} \Rightarrow \left[x_0 = -\frac{b}{2 \cdot a} \right] \Rightarrow 1 = -\frac{-1}{2 \cdot a} \Rightarrow 1 = \frac{1}{2 \cdot a} \Rightarrow 2 \cdot a = 1 \quad /: 2 \Rightarrow a = \frac{1}{2}$$

2. inačica

Budući da točka T pripada paraboli, uvrstit ćemo vrijednosti koordinata tjemena T u jednadžbu parabole:

$$\left. \begin{array}{l} T(x, y) = T\left(1, \frac{7}{2}\right) \\ y = a \cdot x^2 - x + 4 \end{array} \right\} \Rightarrow \frac{7}{2} = a \cdot 1^2 - 1 + 4 \Rightarrow \frac{7}{2} = a + 3 \Rightarrow a + 3 = \frac{7}{2} \Rightarrow a = \frac{7}{2} - 3 \Rightarrow a = \frac{1}{2}$$

Vježba 048

Odredi $a \in \mathbb{R}$ tako da tjeme parabole $y = a \cdot x^2 - 4 \cdot x + 1$ bude u točki $T(1, -1)$

Rezultat: 2.

Zadatak 049 (Marina, gimnazija)

Parabola $y = x^2 + a \cdot x + b$ ima isto tjeme kao parabola $y = -x^2 - 2 \cdot x - 2$. Izračunaj $a \cdot b$.

Rješenje 049

Ponovimo!

Graf kvadratne funkcije $f(x) = a \cdot x^2 + b \cdot x + c$ je parabola $y = a \cdot x^2 + b \cdot x + c$. Tjeme T najniža je točka parabole i parabola je otvorena prema gore ako je $a > 0$. Tjeme T najviša je točka parabole i parabola je otvorena prema dolje ako je $a < 0$. Koordinate tjemena $T(x_0, y_0)$ su:

$$x_0 = -\frac{b}{2 \cdot a} \quad , \quad y_0 = \frac{4 \cdot a \cdot c - b^2}{4 \cdot a}$$

Nađemo tjemena zadanih parabola.

$$\bullet \left. \begin{array}{l} y = x^2 + a \cdot x + b \\ a = 1, \quad b = a, \quad c = b \end{array} \right\} \Rightarrow \left[\begin{array}{l} T(x_0, y_0) \\ x_0 = -\frac{b}{2 \cdot a}, \quad y_0 = \frac{4 \cdot a \cdot c - b^2}{4 \cdot a} \end{array} \right] \Rightarrow \left. \begin{array}{l} x_0 = -\frac{a}{2 \cdot 1} \\ y_0 = \frac{4 \cdot 1 \cdot b - a^2}{4 \cdot 1} \end{array} \right\} \Rightarrow$$

$$\Rightarrow \left. \begin{array}{l} x_0 = -\frac{a}{2} \\ y_0 = \frac{4 \cdot b - a^2}{4} \end{array} \right\} \Rightarrow T\left(-\frac{a}{2}, \frac{4 \cdot b - a^2}{4}\right)$$

$$\bullet \left. \begin{array}{l} y = -x^2 - 2 \cdot x - 2 \\ a = -1, b = -2, c = -2 \end{array} \right\} \Rightarrow \left[\begin{array}{l} T(x_0, y_0) \\ x_0 = -\frac{b}{2 \cdot a}, y_0 = \frac{4 \cdot a \cdot c - b^2}{4 \cdot a} \end{array} \right] \Rightarrow$$

$$\Rightarrow \left. \begin{array}{l} x_0 = -\frac{-2}{2 \cdot (-1)} \\ y_0 = \frac{4 \cdot (-1) \cdot (-2) - (-2)^2}{4 \cdot (-1)} \end{array} \right\} \Rightarrow \left. \begin{array}{l} x_0 = -1 \\ y_0 = \frac{8-4}{-4} \end{array} \right\} \Rightarrow \left. \begin{array}{l} x_0 = -1 \\ y_0 = \frac{4}{-4} \end{array} \right\} \Rightarrow \left. \begin{array}{l} x_0 = -1 \\ y_0 = -1 \end{array} \right\} \Rightarrow T(-1, -1).$$

Budući da obje parabole imaju zajedničko, isto tjeme, slijedi:

$$\left. \begin{array}{l} T\left(-\frac{a}{2}, \frac{4 \cdot b - a^2}{4}\right) \\ T(-1, -1) \end{array} \right\} \Rightarrow \left. \begin{array}{l} -\frac{a}{2} = -1 \\ \frac{4 \cdot b - a^2}{4} = -1 \end{array} \right\} \Rightarrow \left. \begin{array}{l} -\frac{a}{2} = -1 \quad / \cdot (-2) \\ \frac{4 \cdot b - a^2}{4} = -1 \quad / \cdot 4 \end{array} \right\} \Rightarrow \left. \begin{array}{l} a = 2 \\ 4 \cdot b - a^2 = -4 \end{array} \right\} \Rightarrow$$

$$\Rightarrow 4 \cdot b - 2^2 = -4 \Rightarrow 4 \cdot b - 4 = -4 \Rightarrow 4 \cdot b = -4 + 4 \Rightarrow 4 \cdot b = 0 \quad / : 4 \Rightarrow b = 0.$$

Zato je

$$a \cdot b = 2 \cdot 0 \Rightarrow a \cdot b = 0.$$

Vježba 049

Parabola $y = x^2 + a \cdot x + b$ ima isto tjeme kao parabola $y = -x^2 - 2 \cdot x - 2$. Izračunaj $a + b$.

Rezultat: 2.

Zadatak 050 (Dragan, gimnazija)

Zadana je funkcija $x^2 - 2 \cdot k \cdot x - 1 + 2 \cdot k^2 - y = 0$, gdje je k realan parametar. Nađi geometrijsko mjesto točaka minimuma funkcije kad se k mijenja.

Rješenje 050

Ponovimo!

$$(a-b)^2 = a^2 - 2 \cdot a \cdot b + b^2.$$

Graf kvadratne funkcije $f(x) = a \cdot (x - x_0)^2 + y_0$ je parabola s tjemnom u točki $T(x_0, y_0)$. U točki x_0 funkcija f poprima najmanju vrijednost ako je $a > 0$, a najveću vrijednost ako je $a < 0$.

Kanonski oblik zadane funkcije glasi:

$$x^2 - 2 \cdot k \cdot x - 1 + 2 \cdot k^2 - y = 0 \Rightarrow -y = -x^2 + 2 \cdot k \cdot x + 1 - 2 \cdot k^2 \quad / \cdot (-1) \Rightarrow$$

$$\Rightarrow y = x^2 - 2 \cdot k \cdot x - 1 + 2 \cdot k^2 \Rightarrow y = x^2 - 2 \cdot k \cdot x - 1 + k^2 + k^2 \Rightarrow$$

$$\Rightarrow y = x^2 - 2 \cdot k \cdot x + k^2 + k^2 - 1 \Rightarrow y = (x^2 - 2 \cdot k \cdot x + k^2) + k^2 - 1 \Rightarrow$$

$$\Rightarrow y = (x - k)^2 + k^2 - 1.$$

Koordinate tjemena T parabole iznose:

$$\left. \begin{array}{l} f(x) = a \cdot (x - x_0)^2 + y_0, T(x_0, y_0) \\ f(x) = (x - k)^2 + k^2 - 1 \end{array} \right\} \Rightarrow T(k, k^2 - 1).$$

Traženo geometrijsko mjesto točaka dobije se eliminiranjem parametra k iz sustava jednačbi.

$$T(x, y) = T(k, k^2 - 1) \Rightarrow \left. \begin{array}{l} x = k \\ y = k^2 - 1 \end{array} \right\} \Rightarrow \left. \begin{array}{l} x = k / 2 \\ y = k^2 - 1 \end{array} \right\} \Rightarrow \left. \begin{array}{l} x^2 = k^2 \\ y = k^2 - 1 \end{array} \right\} \Rightarrow \\ \Rightarrow \left[\begin{array}{l} \text{metoda zamjene,} \\ \text{supstitucije} \end{array} \right] \Rightarrow y = x^2 - 1.$$

Traženo geometrijsko mjesto točaka je također parabola $y = x^2 - 1$.

Vježba 050

Zadana je funkcija $x^2 + 2 \cdot k^2 = y + 2 \cdot k \cdot x + 1$, gdje je k realan parametar. Nađi geometrijsko mjesto točaka minimuma funkcije kad se k mijenja.

Rezultat: $y = x^2 - 1$.

Zadatak 051 (4A, TUPŠ)

Putanja lopte opisana je funkcijom $h = -\frac{1}{100} \cdot x^2 + \frac{2}{5} \cdot x + 1$, gdje je h visina lopte iznad zemlje, a x horizontalna udaljenost od mjesta ispućavanja. Veličine h i x izražene su u metrima. Nađi visinu najvišeg položaja lopte iznad zemlje.

Rješenje 051

Ponovimo!

$$\frac{a}{n} + \frac{b}{n} = \frac{a+b}{n}, \quad \left(\frac{a}{b}\right)^n = \frac{a^n}{b^n}.$$

Kvadratna funkcija (čiji je graf parabola)

$$y = a \cdot x^2 + b \cdot x + c$$

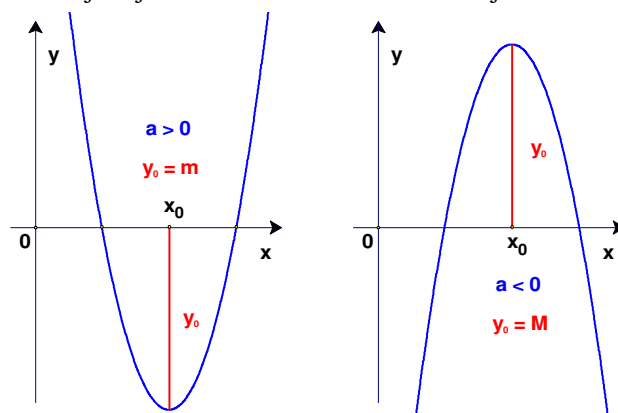
postiže minimum m ako je $a > 0$, a maksimum M ako je $a < 0$. Minimum (ili maksimum) je u točki

$$x_0 = -\frac{b}{2 \cdot a},$$

a njegova vrijednost iznosi

$$y_0 = \frac{4 \cdot a \cdot c - b^2}{4 \cdot a}.$$

Minimum i maksimum funkcije zajednički zovemo ekstrem funkcije.



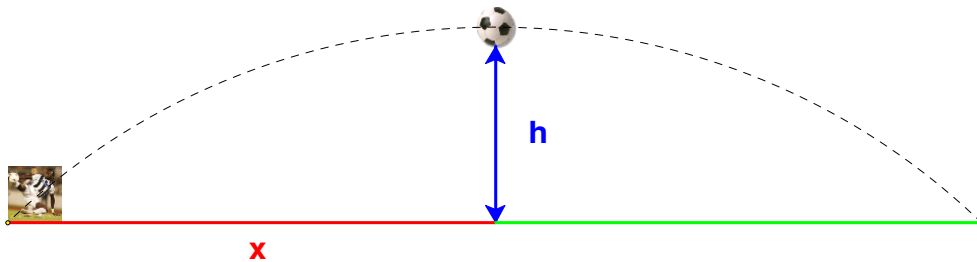
$$y = -\frac{1}{100} \cdot x^2 + \frac{2}{5} \cdot x + 1 \Rightarrow a = -\frac{1}{100}, \quad b = \frac{2}{5}, \quad c = 1.$$

Budući da je koeficijent a negativan, znači da je graf funkcije parabola s otvorom prema dolje. Ekstrem funkcije bit će maksimum. Po formuli nalazimo maksimum:

$$\left. \begin{aligned} a &= -\frac{1}{100}, b = \frac{2}{5}, c = 1 \\ h &= y_0 \\ y_0 &= \frac{4 \cdot a \cdot c - b^2}{4 \cdot a} \end{aligned} \right\} \Rightarrow \left. \begin{aligned} a &= -\frac{1}{100}, b = \frac{2}{5}, c = 1 \\ h &= \frac{4 \cdot a \cdot c - b^2}{4 \cdot a} \end{aligned} \right\} \Rightarrow h = \frac{4 \cdot \left(-\frac{1}{100}\right) \cdot 1 - \left(\frac{2}{5}\right)^2}{4 \cdot \left(-\frac{1}{100}\right)} \Rightarrow$$

$$\Rightarrow h = \frac{-\frac{1}{25} - \frac{4}{25}}{-\frac{1}{25}} \Rightarrow h = \frac{-\frac{5}{25}}{-\frac{1}{25}} \Rightarrow h = \frac{5}{1} \Rightarrow h = \frac{5}{1} \Rightarrow h = 5 \text{ m.}$$

Visina najvišeg položaja lopte iznad zemlje je 5 m.



Vježba 051

Putanja lopte opisana je funkcijom $h = -0.01 \cdot x^2 + 0.4 \cdot x + 1$, gdje je h visina lopte iznad zemlje, a x horizontalna udaljenost od mjesta ispucavanja. Veličine h i x izražene su u metrima. Nađi visinu najvišeg položaja lopte iznad zemlje.

Rezultat: 5 m.

Zadatak 052 (Marina, srednja škola)

Koliki su koeficijenti kvadratne funkcije prikazane na slici?

Rješenje 052

Ponovimo!

Funkcija zadana formulom:

$$f(x) = a \cdot x^2 + b \cdot x + c, \quad a, b, c \in \mathbb{R}, \quad a \neq 0$$

zove se kvadratna funkcija ili kvadratni polinom. Za broj a kažemo da je vodeći koeficijent, b je linearni, a c slobodni koeficijent kvadratne funkcije. Graf kvadratne funkcije $f(x) = a \cdot x^2 + b \cdot x + c$

je parabola $y = a \cdot x^2 + b \cdot x + c$.

Broj x_0 je nultočka funkcije f ako vrijedi

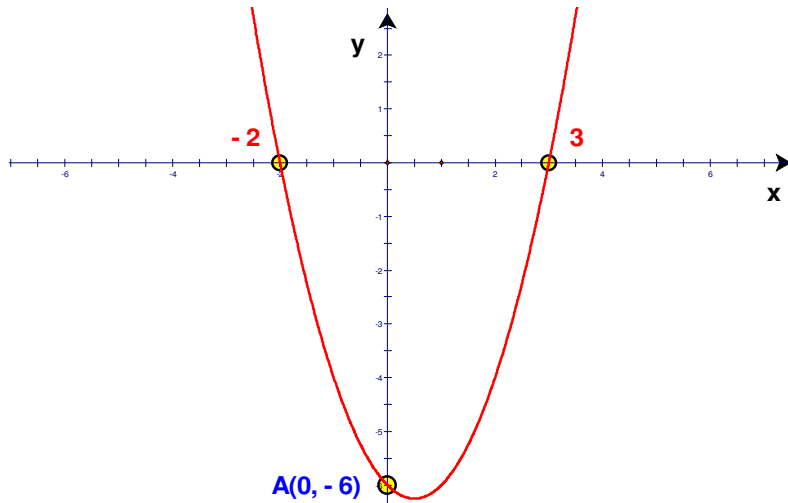
$$f(x_0) = 0.$$

Realna nultočka funkcije apscisa je točke u kojoj graf funkcije siječe (ili dira) x – os. Grafički nultočke određujemo tako da nacrtamo parabolu

$$y = a \cdot x^2 + b \cdot x + c$$

i odredimo točke na x – osi u kojima parabola siječe (ili dira) x – os. Ako su poznate nultočke x_1 i x_2 kvadratne funkcije, tada se ona može faktorizirati

$$\left. \begin{aligned} f(x) &= a \cdot x^2 + b \cdot x + c \\ x_1, x_2 - \text{nultočke funkcije} \end{aligned} \right\} \Rightarrow f(x) = a \cdot (x - x_1) \cdot (x - x_2).$$



Budući da su nultočke (korijeni) prikazane kvadratne funkcije brojevi $x_1 = -2$ i $x_2 = 3$, funkciju možemo zapisati u obliku

$$\left. \begin{aligned} f(x) &= a \cdot (x - x_1) \cdot (x - x_2) \\ x_1 &= -2, \quad x_2 = 3 \end{aligned} \right\} \Rightarrow f(x) = a \cdot (x - (-2)) \cdot (x - 3) \Rightarrow f(x) = a \cdot (x + 2) \cdot (x - 3) \Rightarrow$$

$$\Rightarrow f(x) = a \cdot (x^2 - 3 \cdot x + 2 \cdot x - 6) \Rightarrow f(x) = a \cdot (x^2 - x - 6).$$

Točka $A(0, -6)$ pripada grafu funkcije pa njezine koordinate uvrstimo u zadanu jednadžbu i odredimo koeficijent a :

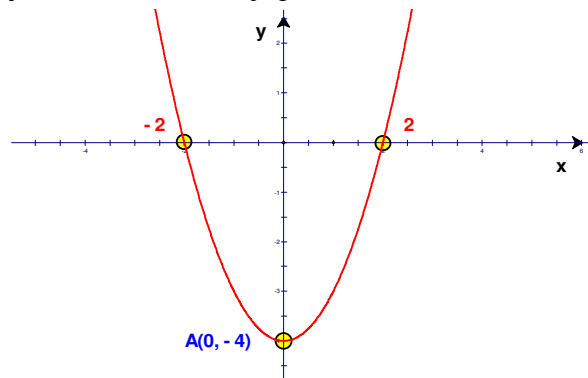
$$\left. \begin{aligned} A(x, y) &= A(0, -6) \\ y &= a \cdot (x^2 - x - 6) \end{aligned} \right\} \Rightarrow -6 = a \cdot (0^2 - 0 - 6) \Rightarrow -6 = a \cdot (-6) \Rightarrow 6 \cdot a = 6 \quad /: 6 \Rightarrow a = 1.$$

Znači da funkcija i koeficijenti glase:

$$\left. \begin{aligned} f(x) &= 1 \cdot (x^2 - x - 6) \Rightarrow f(x) = x^2 - x - 6 \Rightarrow f(x) = 1 \cdot x^2 - 1 \cdot x - 6 \Rightarrow \left. \begin{aligned} a &= 1 \\ b &= -1 \\ c &= -6 \end{aligned} \right\} \end{aligned} \right\}$$

Vježba 052

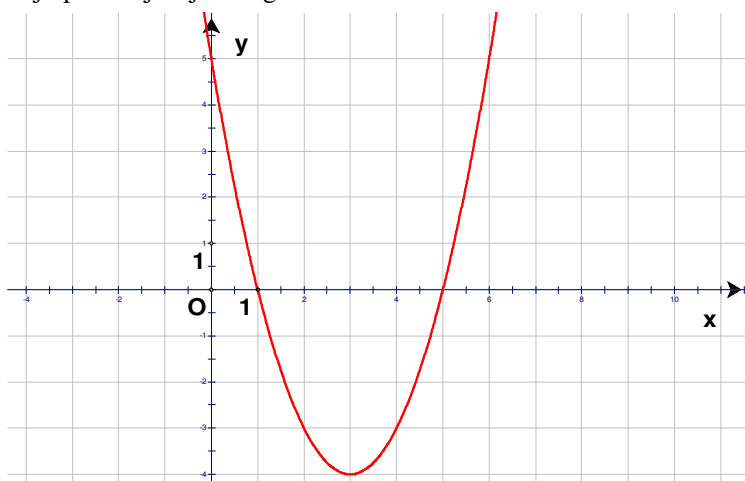
Koliki su koeficijenti kvadratne funkcije prikazane na slici?



Rezultat: $f(x) = x^2 - 4$, $a = 1$, $b = 0$, $c = -4$.

Zadatak 053 (Ekipa, TUPŠ)

Koju funkciju prikazuje sljedeći graf?



- A. $f(x) = (x+3)^2 + 4$ B. $f(x) = (x+3)^2 - 4$ C. $f(x) = (x-3)^2 + 4$ D. $f(x) = (x-3)^2 - 4$

Rješenje 053

Ponovimo!

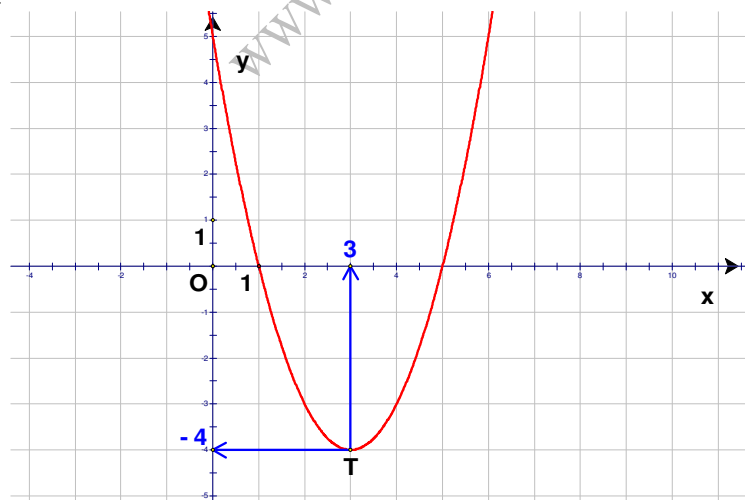
Graf kvadratne funkcije zadane formulom

$$f(x) = a \cdot (x - x_0)^2 + y_0 \quad a \neq 0$$

parabola je s tjemenom u točki

$$T(x_0, y_0).$$

U točki x_0 funkcija poprima najmanju vrijednost y_0 ako je $a > 0$, a najveću vrijednost y_0 ako je $a < 0$.
1. inačica



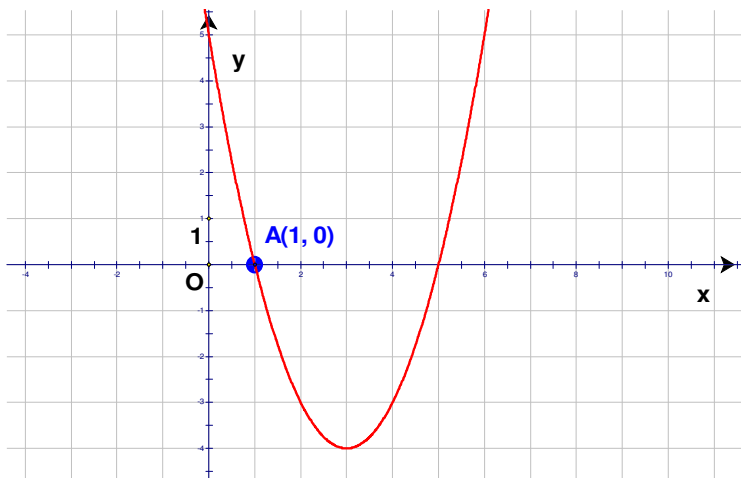
Sa slike odredimo koordinate tjemena parabole $T(3, -4)$.

Jednadžba parabole glasi:

$$\left. \begin{array}{l} T(x_0, y_0) = T(3, -4) \\ f(x) = a \cdot (x - x_0)^2 + y_0 \end{array} \right\} \Rightarrow f(x) = a \cdot (x - 3)^2 - 4 \Rightarrow [a = 1] \Rightarrow f(x) = (x - 3)^2 - 4.$$

Odgovor je pod D.

2. inačica



Sa slike odredimo koordinate jedne točke koja pripada paraboli. Na primjer, točka A(1, 0).
Koordinate točke redom uvrštavamo u ponuđene odgovore A, B, C i D.

Odgovor A.

$$\left. \begin{array}{l} A(x, f(x)) = A(1, 0) \\ f(x) = (x+3)^2 + 4 \end{array} \right\} \Rightarrow 0 = (1+3)^2 + 4 \Rightarrow 0 = 4^2 + 4 \Rightarrow 0 = 16 + 4 \Rightarrow 0 = 20 \text{ nije točno}$$

Odgovor B.

$$\left. \begin{array}{l} A(x, f(x)) = A(1, 0) \\ f(x) = (x+3)^2 - 4 \end{array} \right\} \Rightarrow 0 = (1+3)^2 - 4 \Rightarrow 0 = 4^2 - 4 \Rightarrow 0 = 16 - 4 \Rightarrow 0 = 12 \text{ nije točno}$$

Odgovor C.

$$\left. \begin{array}{l} A(x, f(x)) = A(1, 0) \\ f(x) = (x-3)^2 + 4 \end{array} \right\} \Rightarrow 0 = (1-3)^2 + 4 \Rightarrow 0 = (-2)^2 + 4 \Rightarrow 0 = 4 + 4 \Rightarrow 0 = 8 \text{ nije točno}$$

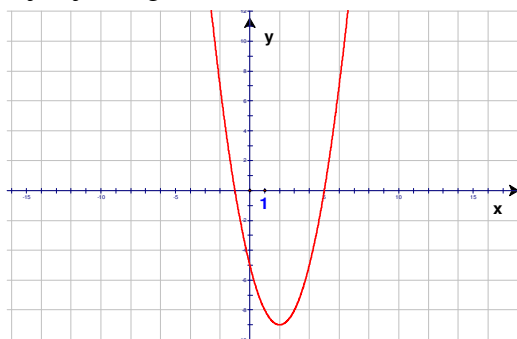
Odgovor D.

$$\left. \begin{array}{l} A(x, f(x)) = A(1, 0) \\ f(x) = (x-3)^2 - 4 \end{array} \right\} \Rightarrow 0 = (1-3)^2 - 4 \Rightarrow 0 = (-2)^2 - 4 \Rightarrow 0 = 4 - 4 \Rightarrow 0 = 0 \text{ točno je}$$

Odgovor je pod D.

Vježba 053

Koju funkciju prikazuje sljedeći graf?

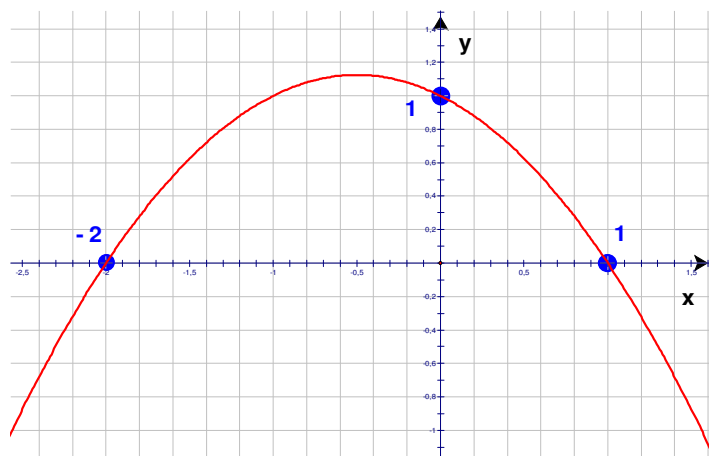


A. $f(x) = (x+2)^2 + 9$ B. $f(x) = (x+2)^2 - 9$ C. $f(x) = (x-2)^2 + 9$ D. $f(x) = (x-2)^2 - 9$

Rezultat: Odgovor je pod D.

Zadatak 054 (Nikola, srednja škola)

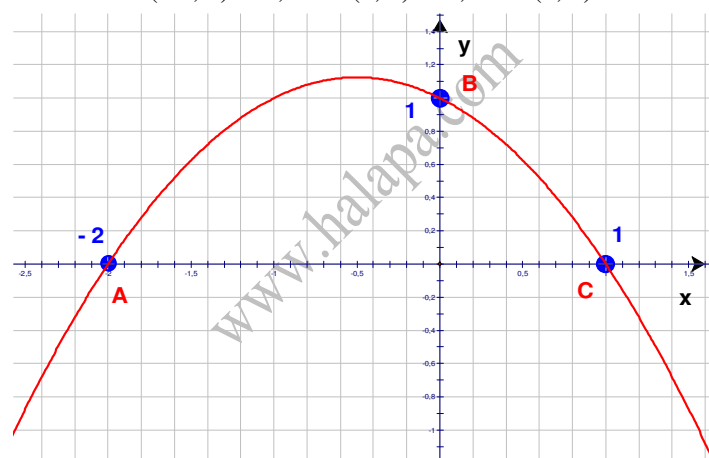
Odredite koeficijente a , b , c kvadratne funkcije $f(x) = a \cdot x^2 + b \cdot x + c$ čiji je graf prikazan na slici.



Rješenje 054

Uočimo točke u kojima parabola (graf kvadratne funkcije) siječe x i y os. Njihove koordinate glase:

$$A(-2, 0) \quad , \quad B(0, 1) \quad , \quad C(1, 0).$$



Koordinate svake točke uvrstimo u jednadžbu parabole (graf kvadratne funkcije).

- $$\left. \begin{array}{l} A(x, f(x)) = A(-2, 0) \\ f(x) = a \cdot x^2 + b \cdot x + c \end{array} \right\} \Rightarrow 0 = a \cdot (-2)^2 + b \cdot (-2) + c \Rightarrow 4 \cdot a - 2 \cdot b + c = 0.$$
- $$\left. \begin{array}{l} B(x, f(x)) = B(0, 1) \\ f(x) = a \cdot x^2 + b \cdot x + c \end{array} \right\} \Rightarrow 1 = a \cdot 0^2 + b \cdot 0 + c \Rightarrow 1 = 0 + 0 + c \Rightarrow c = 1.$$
- $$\left. \begin{array}{l} C(x, f(x)) = C(1, 0) \\ f(x) = a \cdot x^2 + b \cdot x + c \end{array} \right\} \Rightarrow 0 = a \cdot 1^2 + b \cdot 1 + c \Rightarrow a + b + c = 0 \Rightarrow a + b + 1 = 0 \Rightarrow a + b = -1.$$

Iz sustava od tri linearne jednadžbe sa tri nepoznanice dobiju se koeficijenti a , b i c .

$$\left. \begin{array}{l} 4 \cdot a - 2 \cdot b + c = 0 \\ c = 1 \\ a + b + c = 0 \end{array} \right\} \Rightarrow \left[\begin{array}{l} \text{metoda} \\ \text{zamjene} \end{array} \right] \Rightarrow \left. \begin{array}{l} 4 \cdot a - 2 \cdot b + 1 = 0 \\ a + b + 1 = 0 \end{array} \right\} \Rightarrow \left. \begin{array}{l} 4 \cdot a - 2 \cdot b = -1 \\ a + b = -1 \end{array} \right\} \Rightarrow$$

$$\Rightarrow \left[\begin{array}{l} \text{metoda suprotnih} \\ \text{koeficijenata} \end{array} \right] \Rightarrow \left. \begin{array}{l} 4 \cdot a - 2 \cdot b = -1 \\ a + b = -1 \quad / : 2 \end{array} \right\} \Rightarrow \left. \begin{array}{l} 4 \cdot a - 2 \cdot b = -1 \\ 2 \cdot a + 2 \cdot b = -2 \end{array} \right\} \Rightarrow 6 \cdot a = -3 \quad / : 6 \Rightarrow$$

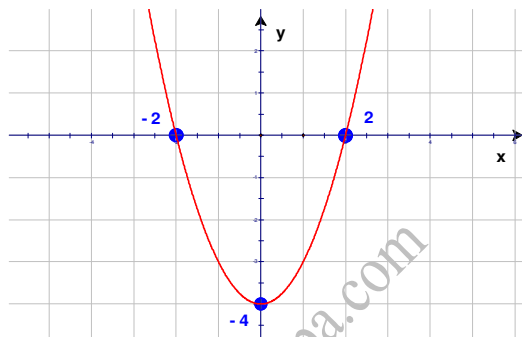
$$\Rightarrow a = -\frac{3}{6} \Rightarrow a = -\frac{1}{2} \Rightarrow \left. \begin{array}{l} a + b = -1 \\ a = -\frac{1}{2} \end{array} \right\} \Rightarrow -\frac{1}{2} + b = -1 \Rightarrow b = -1 + \frac{1}{2} \Rightarrow b = -\frac{1}{2}.$$

Kvadratna funkcija glasi:

$$\left. \begin{array}{l} a = -\frac{1}{2}, \quad b = -\frac{1}{2}, \quad c = 1 \\ f(x) = a \cdot x^2 + b \cdot x + c \end{array} \right\} \Rightarrow f(x) = -\frac{1}{2} \cdot x^2 - \frac{1}{2} \cdot x + 1.$$

Vježba 054

Odredite koeficijente a , b , c kvadratne funkcije $f(x) = a \cdot x^2 + b \cdot x + c$ čiji je graf prikazan na slici.



Rezultat: $f(x) = x^2 - 4.$

Zadatak 055 (XY, gimnazija)

Projektile je koso ispaljen iz točke na nadmorskoj visini od 50 m i giba se po paraboli. Nakon 2 km postiže nadmorsku visinu od 610 m. Nakon sljedeća 2 km nalazi se na nadmorskoj visini od 530 m. U trenutku kada projektil dostiže svoju maksimalnu visinu, 500 m iznad njega leti helikopter. Na kojoj se nadmorskoj visini u tom trenutku nalazi helikopter?

Rješenje 055

Ponovimo!
Graf kvadratne funkcije

$$f(x) = a \cdot x^2 + b \cdot x + c, \quad a \neq 0$$

je parabola

$$y = a \cdot x^2 + b \cdot x + c.$$

Kvadratna funkcija

$$f(x) = a \cdot x^2 + b \cdot x + c, \quad a \neq 0$$

ima ekstrem u točki s apscisom

$$x_0 = -\frac{b}{2 \cdot a}.$$

Vrijednost ekstrema iznosi:

$$y_0 = \frac{4 \cdot a \cdot c - b^2}{4 \cdot a}.$$

Ekstrem je minimum ako je $a > 0$, maksimum ako je $a < 0$.

Budući da se projektil giba po paraboli, uočimo tri točke parabole za koje su poznate koordinate. Sve koordinate izrazit ćemo u kilometrima. Uvedemo koordinatni sustav tako da točka A ima koordinate $A(0, 0.05)$ jer projektil nije ispaljen sa površine zemlje nego iz točke na nadmorskoj visini od

$$50 \text{ m} = 0.05 \text{ km.}$$

Točka B ima koordinate $B(2, 0.61)$ jer nakon 2 km od ispaljivanja projektil postiže nadmorsku visinu od

$$610 \text{ m} = 0.61 \text{ km.}$$

Točka C ima koordinate $C(4, 0.53)$ jer nakon sljedeća 2 km, tj. nakon ukupno 4 km od ispaljivanja projektil postiže nadmorsku visinu od

$$530 \text{ m} = 0.53 \text{ km.}$$

Koordinate svake točka: A, B i C uvrstimo u jednadžbu parabole

$$y = a \cdot x^2 + b \cdot x + c, \text{ tj.}$$

$$a \cdot x^2 + b \cdot x + c = y.$$

Točka A

$$\left. \begin{array}{l} A(x, y) = A(0, 0.05) \\ a \cdot x^2 + b \cdot x + c = y \end{array} \right\} \Rightarrow a \cdot 0^2 + b \cdot 0 + c = 0.05 \Rightarrow a \cdot 0 + b \cdot 0 + c = 0.05 \Rightarrow c = 0.05.$$

Točka B

$$\left. \begin{array}{l} B(x, y) = B(2, 0.61) \\ a \cdot x^2 + b \cdot x + c = y \end{array} \right\} \Rightarrow a \cdot 2^2 + b \cdot 2 + c = 0.61 \Rightarrow 4 \cdot a + 2 \cdot b + c = 0.61.$$

Točka C

$$\left. \begin{array}{l} C(x, y) = C(4, 0.53) \\ a \cdot x^2 + b \cdot x + c = y \end{array} \right\} \Rightarrow a \cdot 4^2 + b \cdot 4 + c = 0.53 \Rightarrow 16 \cdot a + 4 \cdot b + c = 0.53.$$

Dobili smo sustav od tri jednadžbe s tri nepoznane. Iz sustava jednadžbi izračunamo koeficijente a, b i c.

$$\left. \begin{array}{l} c = 0.05 \\ 4 \cdot a + 2 \cdot b + c = 0.61 \\ 16 \cdot a + 4 \cdot b + c = 0.53 \end{array} \right\} \Rightarrow \left[\begin{array}{l} \text{metoda} \\ \text{supstitucije} \end{array} \right] \Rightarrow \left. \begin{array}{l} 4 \cdot a + 2 \cdot b + 0.05 = 0.61 \\ 16 \cdot a + 4 \cdot b + 0.05 = 0.53 \end{array} \right\} \Rightarrow$$

$$\Rightarrow \left. \begin{array}{l} 4 \cdot a + 2 \cdot b = 0.61 - 0.05 \\ 16 \cdot a + 4 \cdot b = 0.53 - 0.05 \end{array} \right\} \Rightarrow \left. \begin{array}{l} 4 \cdot a + 2 \cdot b = 0.56 \\ 16 \cdot a + 4 \cdot b = 0.48 \end{array} \right\} \Rightarrow \left[\begin{array}{l} \text{metoda suprotnih} \\ \text{koeficijenata} \end{array} \right] \Rightarrow$$

$$\Rightarrow \left. \begin{array}{l} 4 \cdot a + 2 \cdot b = 0.56 \\ 16 \cdot a + 4 \cdot b = 0.48 \text{ } /: (-2) \end{array} \right\} \Rightarrow \left. \begin{array}{l} 4 \cdot a + 2 \cdot b = 0.56 \\ -8 \cdot a - 4 \cdot b = -0.24 \end{array} \right\} \Rightarrow -4 \cdot a = 0.32 \Rightarrow$$

$$\Rightarrow -4 \cdot a = 0.32 \text{ } /: (-4) \Rightarrow a = -0.08.$$

Računamo koeficijent b.

$$\left. \begin{array}{l} a = -0.08 \\ 4 \cdot a + 2 \cdot b = 0.56 \end{array} \right\} \Rightarrow 4 \cdot (-0.08) + 2 \cdot b = 0.56 \Rightarrow -0.32 + 2 \cdot b = 0.56 \Rightarrow$$

$$\Rightarrow 2 \cdot b = 0.56 + 0.32 \Rightarrow 2 \cdot b = 0.88 \Rightarrow 2 \cdot b = 0.88 \text{ } /: 2 \Rightarrow b = 0.44.$$

Budući da se maksimalna visina y_0 računa po formuli

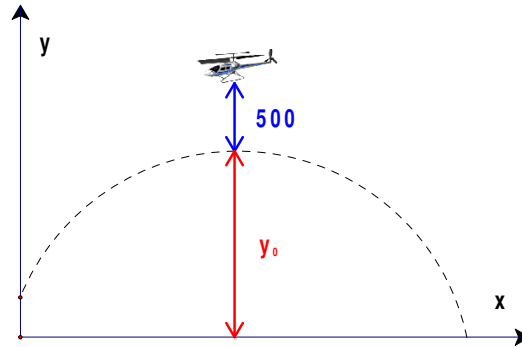
$$y_0 = \frac{4 \cdot a \cdot c - b^2}{4 \cdot a},$$

slijedi:

$$\left. \begin{aligned} a &= -0.08, \quad b = 0.44, \quad c = 0.05 \\ y_0 &= \frac{4 \cdot a \cdot c - b^2}{4 \cdot a} \end{aligned} \right\} \Rightarrow y_0 = \frac{4 \cdot (-0.08) \cdot 0.05 - 0.44^2}{4 \cdot (-0.08)} \Rightarrow y_0 = 0.655 \Rightarrow \\
 \Rightarrow y_0 = 0.655 \text{ km} \Rightarrow y_0 = 655 \text{ m.}$$

Helikopter se nalazi na visini od

$$655 \text{ m} + 500 \text{ m} = 1155 \text{ m.}$$



Vježba 055

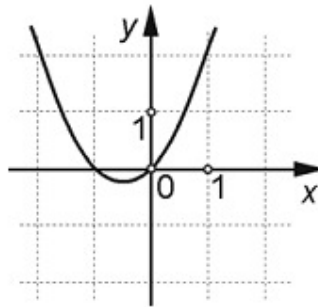
Projektil je koso ispaljen iz točke na nadmorskoj visini od 50 m i giba se po paraboli. Nakon 2 km postiže nadmorsku visinu od 610 m. Nakon sljedeća 2 km nalazi se na nadmorskoj visini od 530 m. U trenutku kada projektil dostiže svoju maksimalnu visinu, 445 m iznad njega leti helikopter. Na kojoj se nadmorskoj visini u tom trenutku nalazi helikopter?

Rezultat: 1100 m.

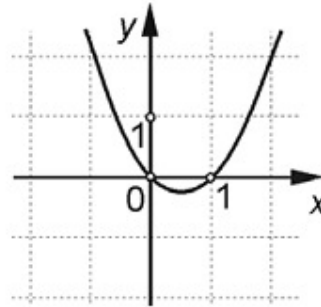
Zadatak 056 (Vedrana, gimnazija)

Koja slika prikazuje graf funkcije $f(x) = -x^2 - x$?

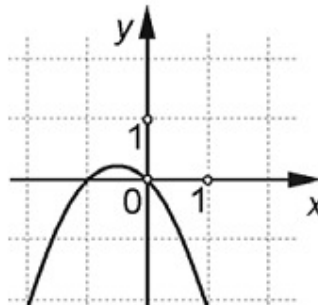
A.



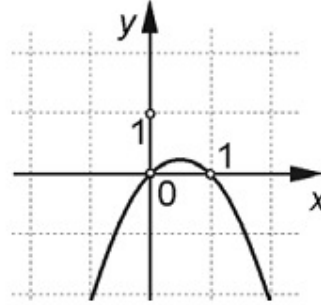
C.



B.



D.



Rješenje 056

Ponovimo!

$$a \cdot b = 0 \Leftrightarrow a = 0 \text{ ili } b = 0 \text{ ili } a = b = 0.$$

Graf kvadratne funkcije

$$f(x) = a \cdot x^2 + b \cdot x + c, a \neq 0$$

je parabola

$$y = a \cdot x^2 + b \cdot x + c.$$

Tjeme T najniža je točka parabole i parabola je otvorena prema gore ako je $a > 0$.

Tjeme T najviša je točka parabole i parabola je otvorena prema dolje ako je $a < 0$.

Točke u kojima graf funkcije siječe os apscisa imaju ordinatu jednaku nuli ($y = 0$).

Nultočka grafa je točka u kojoj graf siječe os apscisa ($y = 0$). Vrijednost x za koju je $f(x) = 0$ zove se nulište funkcije. Najčešće se za oba pojma rabi izraz nultočka.

Određujemo otvorenost parabole

$$y = -x^2 - x.$$

$$\left. \begin{array}{l} y = a \cdot x^2 + b \cdot x + c \\ y = -x^2 - x \end{array} \right\} \Rightarrow \left. \begin{array}{l} y = -x^2 - x \\ a = -1, b = -1, c = 0 \end{array} \right\} \Rightarrow a = -1 < 0 \Rightarrow \text{parabola otvorena prema dolje.}$$

Određujemo nultočke kvadratne funkcije

$$f(x) = -x^2 - x.$$

$$f(x) = 0 \Rightarrow -x^2 - x = 0 \Rightarrow -x^2 - x = 0 \cdot (-1) \Rightarrow x^2 + x = 0 \Rightarrow x \cdot (x+1) = 0 \Rightarrow$$

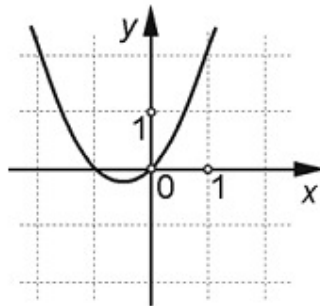
$$\Rightarrow \left. \begin{array}{l} x = 0 \\ x + 1 = 0 \end{array} \right\} \Rightarrow \left. \begin{array}{l} x_1 = 0 \\ x_2 = -1 \end{array} \right\} \text{nultočke.}$$

Odgovor je pod B.

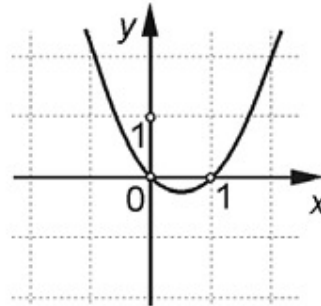
Vježba 056

Koja slika prikazuje graf funkcije $f(x) = x^2 - x$?

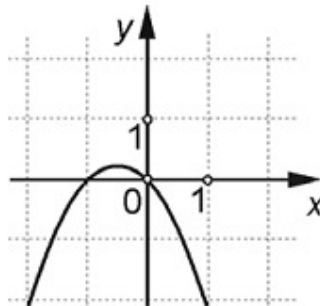
A.



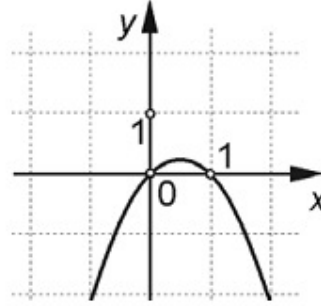
C.



B.



D.

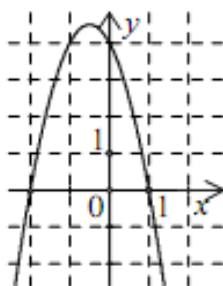
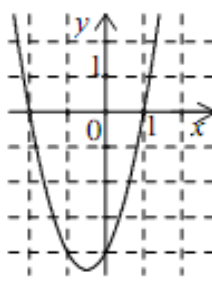
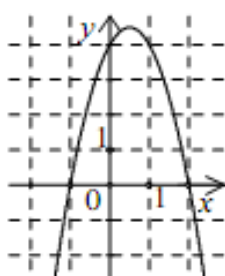
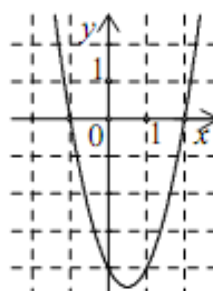


Rezultat:

C.

Zadatak 057 (Vedrana, gimnazija)

Koja slika prikazuje graf funkcije $f(x) = -2 \cdot (x + 2) \cdot (x - 1)$?

A.**C.****B.****D.****Rješenje 057**

Ponovimo!

$$a \cdot b = 0 \Leftrightarrow a = 0 \text{ ili } b = 0 \text{ ili } a = b = 0.$$

Graf kvadratne funkcije

$$f(x) = a \cdot x^2 + b \cdot x + c, \quad a \neq 0$$

je parabola

$$y = a \cdot x^2 + b \cdot x + c.$$

Tjeme T najniža je točka parabole i parabola je otvorena prema gore ako je $a > 0$.

Tjeme T najviša je točka parabole i parabola je otvorena prema dolje ako je $a < 0$.

Točke u kojima graf funkcije siječe os apscisa imaju ordinatu jednaku nuli ($y = 0$).

Nultočka grafa je točka u kojoj graf siječe os apscisa ($y = 0$). Vrijednost x za koju je $f(x) = 0$ zove se nultište funkcije. Najčešće se za oba pojma rabi izraz nultočka.

Faktorizacija kvadratnog trinoma

Svaki se kvadratni trinom može napisati u obliku

$$a \cdot x^2 + b \cdot x + c = a \cdot (x - x_1) \cdot (x - x_2),$$

gdje su x_1 i x_2 rješenja pripadne kvadratne jednadžbe

$$a \cdot x^2 + b \cdot x + c = 0.$$

Određujemo otvorenost parabole

$$y = -2 \cdot (x + 2) \cdot (x - 1).$$

$$\left. \begin{array}{l} y = a \cdot (x - x_1) \cdot (x - x_2) \\ y = -2 \cdot (x + 2) \cdot (x - 1) \end{array} \right\} \Rightarrow \left. \begin{array}{l} y = -2 \cdot (x + 2) \cdot (x - 1) \\ a = -2 \end{array} \right\} \Rightarrow a = -2 < 0 \Rightarrow \text{parabola otvorena prema dolje.}$$

Određujemo nultočke kvadratne funkcije

$$f(x) = -2 \cdot (x+2) \cdot (x-1).$$

$$f(x) = 0 \Rightarrow -2 \cdot (x+2) \cdot (x-1) = 0 \Rightarrow -2 \cdot (x+2) \cdot (x-1) = 0 \quad /: (-2) \Rightarrow (x+2) \cdot (x-1) = 0 \Rightarrow$$

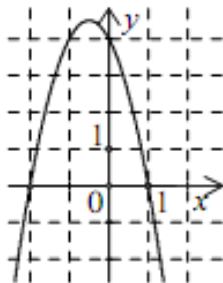
$$\Rightarrow \left. \begin{array}{l} x+2=0 \\ x-1=0 \end{array} \right\} \Rightarrow \left. \begin{array}{l} x_1 = -2 \\ x_2 = 1 \end{array} \right\} \text{ nultočke.}$$

Odgovor je pod A.

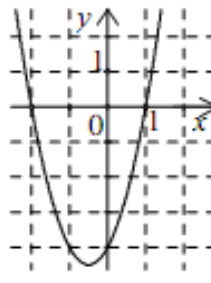
Vježba 057

Koja slika prikazuje graf funkcije $f(x) = 2 \cdot (x+2) \cdot (x-1)$?

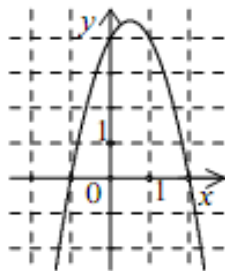
A.



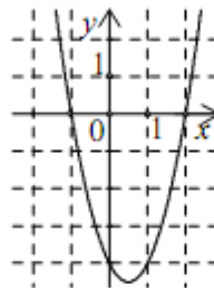
C.



B.



D.



Rezultat: C.

Zadatak 058 (Franjo, srednja škola)

Najveća vrijednost polinoma drugog stupnja jednaka je $\frac{13}{8}$. Također vrijedi $f(-1) = f(2) = 1$.

Koji je to polinom?

Rješenje 058

Ponovimo!

$$x \cdot y = 0 \Leftrightarrow x = 0 \text{ ili } y = 0 \text{ ili } x = y = 0.$$

$$\frac{x}{y} + \frac{m}{n} = \frac{x \cdot n + y \cdot m}{y \cdot n}, \quad n = \frac{n}{1}.$$

Zakon distribucije množenja prema zbrajanju

$$a \cdot (b+c) = a \cdot b + a \cdot c, \quad a \cdot b + a \cdot c = a \cdot (b+c).$$

Polinom drugog stupnja (kvadratna funkcija) ima oblik

$$f(x) = a \cdot x^2 + b \cdot x + c,$$

gdje su $a \neq 0$, b i c realni brojevi. Broj a naziva se vodeći koeficijent polinoma drugog stupnja, b linearni koeficijent, a c slobodni koeficijent polinoma.

Kvadratna funkcija (polinom drugog stupnja)

$$f(x) = a \cdot x^2 + b \cdot x + c, \quad a \neq 0$$

ima ekstrem u točki s apscisom:

$$x_0 = -\frac{b}{2 \cdot a}$$

Vrijednost ekstrema iznosi:

$$y_0 = \frac{4 \cdot a \cdot c - b^2}{4 \cdot a}$$

Ekstrem je minimum ako je $a > 0$, maksimum ako je $a < 0$.

Graf kvadratne funkcije (polinoma drugog stupnja) $f(x) = a \cdot x^2 + b \cdot x + c$ je parabola

$$y = a \cdot x^2 + b \cdot x + c$$

Parabola je simetrična s obzirom na pravac koji je usporedan (paralelan) s osi y i prolazi tjemnom parabole. Jednadžba je tog pravca $x = x_0$. To znači da iz jednakosti

$$f(x_1) = f(x_2)$$

slijedi da je apscisa tjemena parabole x_0 polovište zbroja apscisa x_1 i x_2 .

$$x_0 = \frac{x_1 + x_2}{2}$$

1. inačica

Prema uvjetima iz zadatka dobije se sustav od tri jednadžbe sa tri:

$$\left. \begin{array}{l} f(-1) = 1 \\ f(2) = 1 \\ y_0 = \frac{13}{8} \end{array} \right\} \Rightarrow \left[\begin{array}{l} f(x) = a \cdot x^2 + b \cdot x + c \\ y_0 = \frac{4 \cdot a \cdot c - b^2}{4 \cdot a} \end{array} \right] \Rightarrow \left. \begin{array}{l} a \cdot (-1)^2 + b \cdot (-1) + c = 1 \\ a \cdot 2^2 + b \cdot 2 + c = 1 \\ \frac{4 \cdot a \cdot c - b^2}{4 \cdot a} = \frac{13}{8} \end{array} \right\} \Rightarrow$$

$$\left. \begin{array}{l} a - b + c = 1 \\ \Rightarrow 4 \cdot a + 2 \cdot b + c = 1 \\ \frac{4 \cdot a \cdot c - b^2}{4 \cdot a} = \frac{13}{8} \end{array} \right\} \begin{array}{l} \cdot 8 \cdot a \\ \cdot 8 \cdot a \\ \cdot 8 \cdot a \end{array} \Rightarrow \left. \begin{array}{l} a - b + c = 1 \\ 4 \cdot a + 2 \cdot b + c = 1 \\ 2 \cdot (4 \cdot a \cdot c - b^2) = 13 \cdot a \end{array} \right\} \Rightarrow \left. \begin{array}{l} a - b + c = 1 \\ 4 \cdot a + 2 \cdot b + c = 1 \\ 8 \cdot a \cdot c - 2 \cdot b^2 = 13 \cdot a \end{array} \right\} \Rightarrow$$

$$\Rightarrow \left[\begin{array}{l} \text{iz prve jednadžbe izračunamo} \\ \text{nepoznanicu } c \text{ i uvrstimo u} \\ \text{druge dvije jednadžbe} \end{array} \right] \Rightarrow \left. \begin{array}{l} c = 1 - a + b \\ \Rightarrow 4 \cdot a + 2 \cdot b + c = 1 \\ 8 \cdot a \cdot c - 2 \cdot b^2 = 13 \cdot a \end{array} \right\} \Rightarrow$$

$$\Rightarrow \left. \begin{array}{l} 4 \cdot a + 2 \cdot b + 1 - a + b = 1 \\ 8 \cdot a \cdot (1 - a + b) - 2 \cdot b^2 = 13 \cdot a \end{array} \right\} \Rightarrow \left. \begin{array}{l} 4 \cdot a + 2 \cdot b + 1 - a + b = 1 \\ 8 \cdot a - 8 \cdot a^2 + 8 \cdot a \cdot b - 2 \cdot b^2 = 13 \cdot a \end{array} \right\} \Rightarrow$$

$$\Rightarrow \left. \begin{array}{l} 3 \cdot a + 3 \cdot b = 0 \\ 8 \cdot a - 8 \cdot a^2 + 8 \cdot a \cdot b - 2 \cdot b^2 - 13 \cdot a = 0 \end{array} \right\} \Rightarrow \left. \begin{array}{l} 3 \cdot a + 3 \cdot b = 0 \quad /: 3 \\ -5 \cdot a - 8 \cdot a^2 + 8 \cdot a \cdot b - 2 \cdot b^2 = 0 \end{array} \right\} \Rightarrow$$

$$\Rightarrow \left. \begin{array}{l} a + b = 0 \\ -5 \cdot a - 8 \cdot a^2 + 8 \cdot a \cdot b - 2 \cdot b^2 = 0 \end{array} \right\} \Rightarrow \left. \begin{array}{l} b = -a \\ -5 \cdot a - 8 \cdot a^2 + 8 \cdot a \cdot b - 2 \cdot b^2 = 0 \end{array} \right\} \Rightarrow \left[\begin{array}{l} \text{metoda} \\ \text{supstitucije} \end{array} \right] \Rightarrow$$

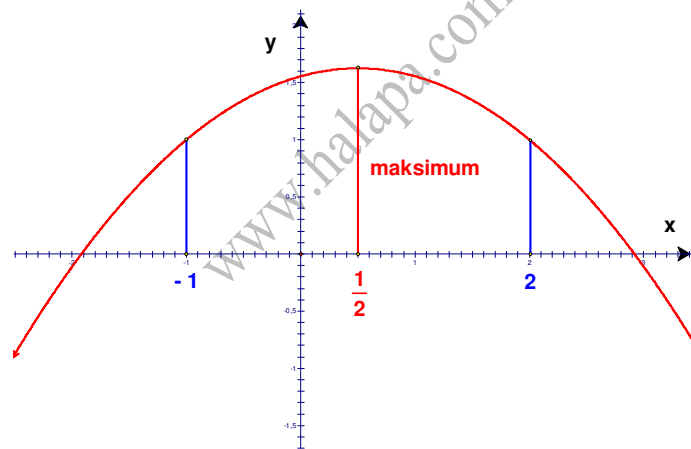
$$\begin{aligned} &\Rightarrow -5 \cdot a - 8 \cdot a^2 + 8 \cdot a \cdot (-a) - 2 \cdot (-a)^2 = 0 \Rightarrow -5 \cdot a - 8 \cdot a^2 - 8 \cdot a^2 - 2 \cdot a^2 = 0 \Rightarrow \\ &\Rightarrow -18 \cdot a^2 - 5 \cdot a = 0 \Rightarrow -18 \cdot a^2 - 5 \cdot a = 0 \quad /: (-1) \Rightarrow 18 \cdot a^2 + 5 \cdot a = 0 \Rightarrow a \cdot (18 \cdot a + 5) = 0 \Rightarrow \\ &\quad \Rightarrow \left. \begin{array}{l} a = 0 \text{ nema smisla} \\ 18 \cdot a + 5 = 0 \end{array} \right\} \Rightarrow 18 \cdot a = -5 \Rightarrow 18 \cdot a = -5 \quad /: 18 \Rightarrow a = -\frac{5}{18}. \end{aligned}$$

Računamo koeficijente b i c polinoma drugog stupnja (kvadratne funkcije).

$$\begin{aligned} &\left. \begin{array}{l} b = -a \\ \Rightarrow c = 1 - a + b \\ a = -\frac{5}{18} \end{array} \right\} \Rightarrow \left. \begin{array}{l} b = -\left(-\frac{5}{18}\right) \\ c = 1 - \left(-\frac{5}{18}\right) + b \end{array} \right\} \Rightarrow \left. \begin{array}{l} b = \frac{5}{18} \\ c = 1 + \frac{5}{18} + b \end{array} \right\} \Rightarrow c = 1 + \frac{5}{18} + \frac{5}{18} \Rightarrow \\ &\quad \Rightarrow c = \frac{1}{1} + \frac{5}{18} + \frac{5}{18} \Rightarrow c = \frac{18 + 5 + 5}{18} \Rightarrow c = \frac{28}{18} \Rightarrow c = \frac{14}{9}. \end{aligned}$$

Polinom drugog stupnja glasi:

$$\left. \begin{array}{l} f(x) = a \cdot x^2 + b \cdot x + c \\ a = -\frac{5}{18}, \quad b = \frac{5}{18}, \quad c = \frac{14}{9} \end{array} \right\} \Rightarrow f(x) = -\frac{5}{18} \cdot x^2 + \frac{5}{18} \cdot x + \frac{14}{9}.$$



2. inačica

Iskoristit ćemo svojstvo simetrije grafa polinoma drugog stupnja. Budući da je $f(-1) = f(2)$, slijedi da je apscisa tjemena parabole (najveće vrijednosti polinoma) polovište apscisa $x_1 = -1$ i $x_2 = 2$:

$$x_0 = \frac{-1 + 2}{2} \Rightarrow x_0 = \frac{1}{2}.$$

Riješimo sustav od tri jednadžbe sa tri nepoznane.

$$\left. \begin{array}{l} f(-1) = 1 \\ f(2) = 1 \\ f\left(\frac{1}{2}\right) = \frac{13}{8} \end{array} \right\} \Rightarrow \left[f(x) = a \cdot x^2 + b \cdot x + c \right] \Rightarrow \left. \begin{array}{l} a \cdot (-1)^2 + b \cdot (-1) + c = 1 \\ a \cdot 2^2 + b \cdot 2 + c = 1 \\ a \cdot \left(\frac{1}{2}\right)^2 + b \cdot \frac{1}{2} + c = \frac{13}{8} \end{array} \right\} \Rightarrow$$

$$\begin{aligned} & \left. \begin{array}{l} a-b+c=1 \\ \Rightarrow 4\cdot a+2\cdot b+c=1 \\ \frac{1}{4}\cdot a+\frac{1}{2}\cdot b+c=\frac{13}{8} \end{array} \right\} \Rightarrow \left. \begin{array}{l} a-b+c=1 \\ 4\cdot a+2\cdot b+c=1 \\ \frac{1}{4}\cdot a+\frac{1}{2}\cdot b+c=\frac{13}{8} \cdot 8 \end{array} \right\} \Rightarrow \left. \begin{array}{l} a-b+c=1 \\ 4\cdot a+2\cdot b+c=1 \\ 2\cdot a+4\cdot b+8\cdot c=13 \end{array} \right\} \Rightarrow \\ & \Rightarrow \left[\begin{array}{l} \text{iz prve jednadžbe izračunamo} \\ \text{nepoznanicu } c \text{ i uvrstimo} \\ \text{u druge dvije jednadžbe} \end{array} \right] \Rightarrow \left. \begin{array}{l} c=1-a+b \\ \Rightarrow 4\cdot a+2\cdot b+c=1 \\ 2\cdot a+4\cdot b+8\cdot c=13 \end{array} \right\} \Rightarrow \left. \begin{array}{l} 4\cdot a+2\cdot b+1-a+b=1 \\ 2\cdot a+4\cdot b+8\cdot(1-a+b)=13 \end{array} \right\} \Rightarrow \\ & \Rightarrow \left. \begin{array}{l} 4\cdot a+2\cdot b+1-a+b=1 \\ 2\cdot a+4\cdot b+8-8\cdot a+8\cdot b=13 \end{array} \right\} \Rightarrow \left. \begin{array}{l} 3\cdot a+3\cdot b=0 \\ -6\cdot a+12\cdot b=13-5 \end{array} \right\} \Rightarrow \left. \begin{array}{l} 3\cdot a+3\cdot b=0 \text{ } /: 3 \\ -6\cdot a+12\cdot b=8 \end{array} \right\} \Rightarrow \\ & \Rightarrow \left. \begin{array}{l} a+b=0 \\ -6\cdot a+12\cdot b=8 \end{array} \right\} \Rightarrow \left. \begin{array}{l} b=-a \\ -6\cdot a+12\cdot b=8 \end{array} \right\} \Rightarrow \left[\begin{array}{l} \text{metoda} \\ \text{supstitucije} \end{array} \right] \Rightarrow -6\cdot a+12\cdot(-a)=8 \Rightarrow \\ & \Rightarrow -6\cdot a-12\cdot a=8 \Rightarrow -18\cdot a=8 \Rightarrow -18\cdot a=8 \text{ } /: (-18) \Rightarrow a=-\frac{8}{18}. \end{aligned}$$

Računamo koeficijente b i c polinoma drugog stupnja (kvadratne funkcije).

$$\begin{aligned} & \left. \begin{array}{l} b=-a \\ \Rightarrow c=1-a+b \\ a=-\frac{5}{18} \end{array} \right\} \Rightarrow \left. \begin{array}{l} b=-\left(-\frac{5}{18}\right) \\ c=1-\left(-\frac{5}{18}\right)+b \end{array} \right\} \Rightarrow \left. \begin{array}{l} b=\frac{5}{18} \\ c=1+\frac{5}{18}+b \end{array} \right\} \Rightarrow c=1+\frac{5}{18}+\frac{5}{18} \Rightarrow \end{aligned}$$

Polinom drugog stupnja glasi:

$$\left. \begin{array}{l} f(x) = a \cdot x^2 + b \cdot x + c \\ a = -\frac{5}{18}, b = \frac{5}{18}, c = \frac{14}{9} \end{array} \right\} \Rightarrow f(x) = -\frac{5}{18} \cdot x^2 + \frac{5}{18} \cdot x + \frac{14}{9}.$$

Vježba 058

Najveća vrijednost polinoma drugog stupnja jednaka je 3. Također vrijedi $f(-1) = f(2) = 0$. Koji je to polinom?

Rezultat: $f(x) = -\frac{4}{3} \cdot x^2 + \frac{4}{3} \cdot x + \frac{8}{3}.$

Zadatak 059 (Matea, gimnazija)

Sa 200 metara žice treba ograditi zemljište pravokutnog oblika što je moguće veće površine. Koliko iznosi duljina i širina zemljišta?

Rješenje 059

Ponovimo!

Paralelogrami su četverokuti kojima su po dvije nasuprotne stranice usporedne (paralelne). Pravokutnik je paralelogram koji ima barem jedan pravi kut (pravi kut ima 90°).

Opseg i površina pravokutnika

Opseg je zbroj duljina svih stranica pravokutnika

$$O = 2 \cdot (a + b).$$

Površina pravokutnika je jednaka produktu njegove duljine a i širine b.

$$P = a \cdot b.$$

Polinom drugog stupnja (kvadratna funkcija) ima oblik

$$f(x) = a \cdot x^2 + b \cdot x + c,$$

gdje su $a \neq 0$, b i c realni brojevi. Broj a naziva se vodeći koeficijent polinoma drugog stupnja, b linearni koeficijent, a c slobodni koeficijent polinoma.

Kvadratna funkcija (polinom drugog stupnja)

$$f(x) = a \cdot x^2 + b \cdot x + c, \quad a \neq 0$$

ima ekstrem u točki s apscisom:

$$x_0 = -\frac{b}{2 \cdot a}.$$

Vrijednost ekstrema iznosi:

$$y_0 = \frac{4 \cdot a \cdot c - b^2}{4 \cdot a}.$$

Ekstrem je minimum ako je $a > 0$, maksimum ako je $a < 0$.

Označimo slovima x i y duljinu i širinu pravokutnika. Budući da je žica duga 200 metara, dobije se:

$$\bullet \quad \left. \begin{array}{l} O = 2 \cdot (x + y) \\ O = 200 \end{array} \right\} \Rightarrow \left[\begin{array}{l} \text{metoda} \\ \text{komparacije} \end{array} \right] \Rightarrow 2 \cdot (x + y) = 200 \Rightarrow 2 \cdot (x + y) = 200 \quad / : 2 \Rightarrow \\ \Rightarrow x + y = 100 \Rightarrow y = 100 - x.$$

$$\bullet \quad \left. \begin{array}{l} P = x \cdot y \\ y = 100 - x \end{array} \right\} \Rightarrow \left[\begin{array}{l} \text{metoda} \\ \text{supstitucije} \end{array} \right] \Rightarrow P = x \cdot (100 - x) \Rightarrow P = 100 \cdot x - x^2 \Rightarrow P = -x^2 + 100 \cdot x.$$

Površina pravokutnika izražena je pomoću kvadratne funkcije.

$$P(x) = -x^2 + 100 \cdot x \Rightarrow \left. \begin{array}{l} P(x) = -x^2 + 100 \cdot x \\ a = -1, \quad b = 100, \quad c = 0 \end{array} \right\}.$$

Budući da je vodeći koeficijent kvadratne funkcije $P(x)$ negativan ($a = -1 < 0$), funkcija ima najveću vrijednost za:

$$\left. \begin{array}{l} x = -\frac{b}{2 \cdot a} \\ a = -1, \quad b = 100 \end{array} \right\} \Rightarrow x = -\frac{100}{2 \cdot (-1)} \Rightarrow x = 50.$$

Tada je:

$$\left. \begin{array}{l} y = 100 - x \\ x = 50 \end{array} \right\} \Rightarrow y = 100 - 50 \Rightarrow y = 50.$$

Znači da je zemljište kvadratnog oblika, a duljina stranice iznosi 50 m.



Vježba 059

Sa 100 metara žice treba ograditi zemljište pravokutnog oblika što je moguće veće površine. Koliko iznosi duljina i širina zemljišta?

Rezultat: 25 m.

Zadatak 060 (Matea, gimnazija)

Luk mosta ima oblik parabole $y = -\frac{1}{80} \cdot x^2 + c$. Kolika je duljina mosta ako je visina luka 5 m?

Rješenje 060

Ponovimo!

Polinom drugog stupnja (kvadratna funkcija) ima oblik

$$f(x) = a \cdot x^2 + b \cdot x + c,$$

gdje su $a \neq 0$, b i c realni brojevi. Broj a naziva se vodeći koeficijent polinoma drugog stupnja, b linearni koeficijent, a c slobodni koeficijent polinoma.

Kvadratna funkcija (polinom drugog stupnja)

$$f(x) = a \cdot x^2 + b \cdot x + c, \quad a \neq 0$$

ima ekstrem u točki s apscisom:

$$x_0 = -\frac{b}{2 \cdot a}.$$

Vrijednost ekstrema iznosi:

$$y_0 = \frac{4 \cdot a \cdot c - b^2}{4 \cdot a}.$$

Ekstrem je minimum ako je $a > 0$, maksimum ako je $a < 0$.

Graf kvadratne funkcije (polinoma drugog stupnja) $f(x) = a \cdot x^2 + b \cdot x + c$ je parabola

$$y = a \cdot x^2 + b \cdot x + c.$$

Nultočka grafa je točka u kojoj graf siječe os apscisa ($y = 0$). Vrijednost x za koju je $f(x) = 0$ zove se nulište funkcije. Najčešće se za oba pojma rabi izraz nultočka.

Nultočke kvadratne funkcije dobijemo tako da riješimo kvadratnu jednadžbu:

$$a \cdot x^2 + b \cdot x + c = 0.$$

Za realni broj x njegova je apsolutna vrijednost (modul) broj $|x|$ koji određujemo na ovaj način:

$$|x| = \begin{cases} x, & x \geq 0 \\ -x, & x < 0. \end{cases}$$

Ako je broj x pozitivan ili nula, tada je on jednak svojoj apsolutnoj vrijednosti. Za svaki x , $x \geq 0$, vrijedi $|x| = x$.

Ako je x negativan broj, njegova apsolutna vrijednost je suprotan broj $-x$ koji je pozitivan. Za svaki x , $x < 0$, je $|x| = -x$.

Ili ovako:

Apsolutna vrijednost realnog broja x definira se

$$|x| = \begin{cases} x, & x > 0 \\ 0, & x = 0 \\ -x, & x < 0 \end{cases}.$$

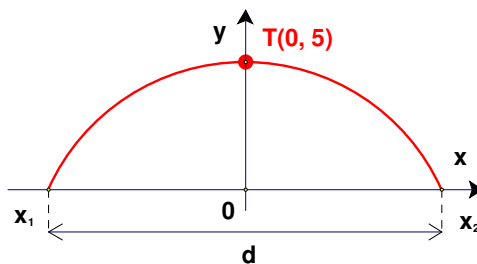
Ako je broj x pozitivan broj, onda ga prepisemo: $|x| = x$, $|7| = 7$.

Ako je broj x negativan broj, onda ga pišemo s minusom: $|x| = -x$, $|-4| = -(-4) = 4$.

Neka su $A(x_1)$ i $B(x_2)$ dvije točke brojevnog pravca. Tada je udaljenost dviju točaka jednaka

$$|AB| = |x_2 - x_1|.$$

Postavimo most u pravokutni koordinatni sustav kao na slici. Visina luka mosta je ordinata tjemena $T(0, 5)$ parabole. Uvrstimo koordinate tjemena u jednadžbu parabole da bismo izračunali slobodni koeficijent c .



$$\left. \begin{array}{l} T(x, y) = T(0, 5) \\ y = -\frac{1}{80} \cdot x^2 + c \end{array} \right\} \Rightarrow 5 = -\frac{1}{80} \cdot 0^2 + c \Rightarrow 5 = 0 + c \Rightarrow c = 5.$$

Tada jednačnja parabole glasi:

$$y = -\frac{1}{80} \cdot x^2 + 5.$$

Nultočke parabole dobijemo kao rješenje kvadratne jednačnje.

$$\begin{aligned} -\frac{1}{80} \cdot x^2 + 5 = 0 &\Rightarrow -\frac{1}{80} \cdot x^2 = -5 \Rightarrow -\frac{1}{80} \cdot x^2 = -5 \quad / \cdot (-80) \Rightarrow x^2 = 400 \Rightarrow \\ &\Rightarrow x^2 = 400 \quad / \sqrt{\quad} \Rightarrow x_{1,2} = \pm \sqrt{400} \Rightarrow \left. \begin{array}{l} x_1 = -20 \\ x_2 = 20 \end{array} \right\}. \end{aligned}$$

Duljina mosta iznosi:

$$d = |x_2 - x_1| \Rightarrow d = |20 - (-20)| \Rightarrow d = |20 + 20| \Rightarrow d = |40| \Rightarrow d = 40 \text{ m.}$$

Vježba 060

Luk mosta ima oblik parabole $y = -\frac{1}{20} \cdot x^2 + c$. Kolika je duljina mosta ako je visina luka 5 m?

Rezultat: 20 m.